



Самостоятельная работа 6.1
«Доли. Обыкновенные дроби»
Вариант 1

1. Какая часть фигуры, изображенной на рисунке, закрашена:

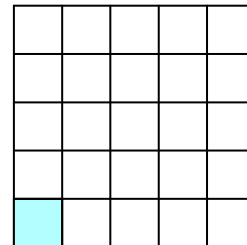
а)



б)



в)



2. В школьную столовую привезли 120 кг картофеля. В первый день израсходовали $\frac{1}{6}$ часть всего привезенного картофеля. Сколько килограммов картофеля израсходовали в первый день?

3. Сравните дроби, заменив звездочку знаком $<$ или $>$:

а) $\frac{3}{8} * \frac{5}{8}$; б) $\frac{9}{11} * \frac{7}{11}$; в) $\frac{20}{21} * \frac{16}{21}$; г) $\frac{5}{9} * 1$.


Самостоятельная работа 6.1
«Доли. Обыкновенные дроби»
Вариант 2

1. Какая часть фигуры, изображенной на рисунке, закрашена:

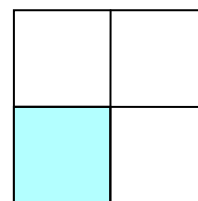
а)



б)



в)



2. Пришкольный участок занимает площадь 600 м². Ученики пятого класса в первый день вскопали $\frac{1}{5}$ часть всего участка. Какую площадь вскопали ученики в первый день?

3. Сравните дроби, заменив звездочку знаком $<$ или $>$:

а) $\frac{3}{10} * \frac{7}{10}$; б) $\frac{12}{13} * \frac{9}{13}$; в) $\frac{19}{24} * \frac{23}{24}$; г) $1 * \frac{5}{7}$.